

Escribamos y leamos los números hasta 99 así como hacen los adultos


Transformemos restas en sumas



1. Estudien las dos formas de resolver el problema:

El método de Alejo

14 - 8

Como son muchos  prefiero hacer palotes.



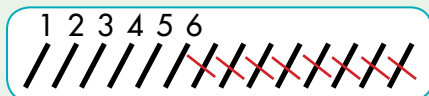
Primer paso: hago 14 rayas.



Segundo paso: tacho 8 rayas.



Tercer paso: cuento las que quedan.



$$14 - 8 = 6$$

Respuesta: Le quedan 6  por vender.

El método de Mariana

14 - 8

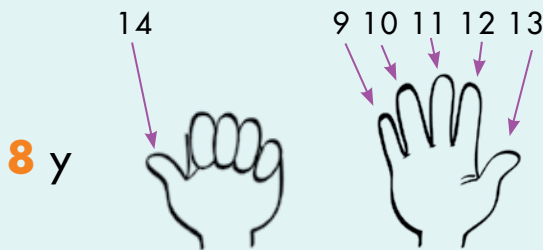


Yo hago completando.
En lugar de quitar me pregunto:
¿Cuánto le falta a 8 para llegar a 14?

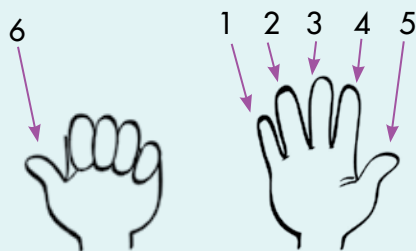
Primer paso: cuento a partir de 8 hasta a 14.




... sigo contando hasta llegar a 14



Segundo paso: cuento los dedos estirados.



Respuesta: al señor le quedan 6  por vender.

2. Apliquen el método de Alejo y resuelvan el problema.


A la fiesta de Juana asistieron 16 . Ya se fueron 7.
¿Cuántas  quedan?

3. Apliquen el método de Mariana y resuelvan el problema.

Antonio tiene que tejer 18 . Ha tejido 7.
¿Cuántos le faltan?





4. Resuelve los problemas por el método que te parezca mejor:





La niña está en el escalón **3**
Tiene que subir al escalón **19**
¿Cuántos le faltan?

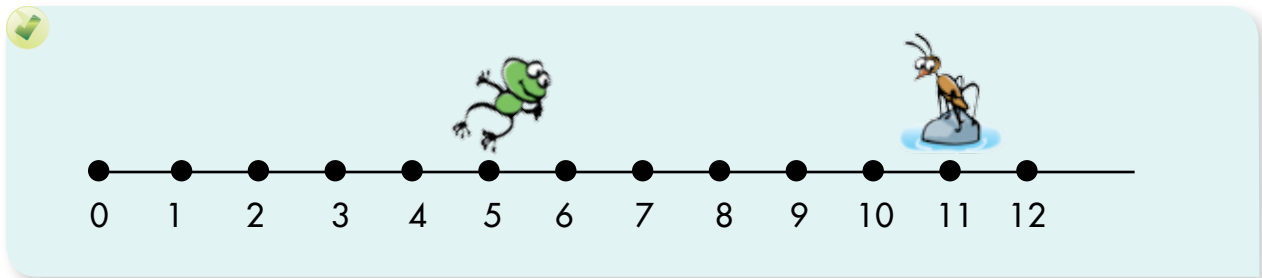
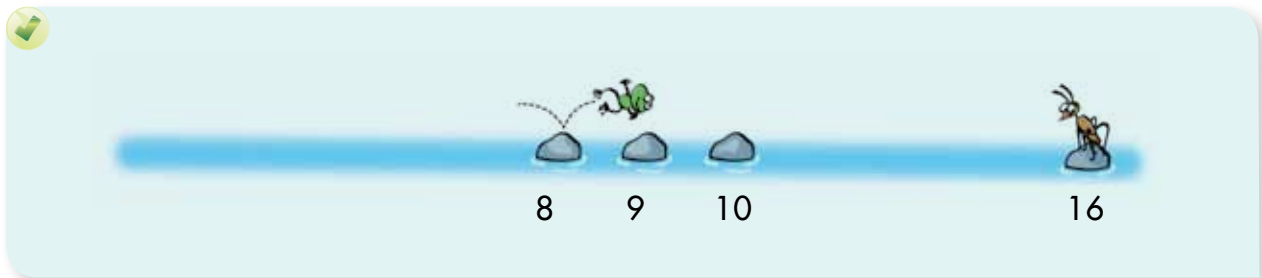


Traje 18 
He vendido 12.
¿Cuántos me quedan?




Rafael tiene que plantar 13 
Hemos sembrado 7.
¿Cuántos  le faltan?

5. ¿Cuántos saltos le faltan a la  para comerse el ?



La escalera de veinte y algo más



23 → Dos grupos de 10 y 3 sueltos

23

veinte y tres → **20 y 3**

veintitrés

Los adultos
escriben y leen así:



Así escriben
los adultos los números de 2 grupos
de 10 y algo más.





Trabaja solo

1. Ayúdate con las escaleras.
Dibuja la cantidad de puntos y escribe el número.

veinticinco

25

✓ veintiocho

✓ veintiséis

✓ dieciséis

✓ veintiuno

2. Escribe los números como sumas de 20 o 10 y algo más.

26 \Rightarrow 20 + 6

✓ 27

✓ 18

✓ 23

✓ 14

✓ 12

✓ 20

✓ 24

✓ 22

3. Calcula el resultado.

✓ $23 + 1$

✓ $27 + 1$

✓ $25 + 2$

✓ $21 + 3$

✓ $28 - 1$

✓ $21 + 8$

✓ $18 + 1$

✓ $13 + 4$

✓ $26 - 3$

✓ $18 + 3$

✓ $15 - 8$

✓ $27 - 9$



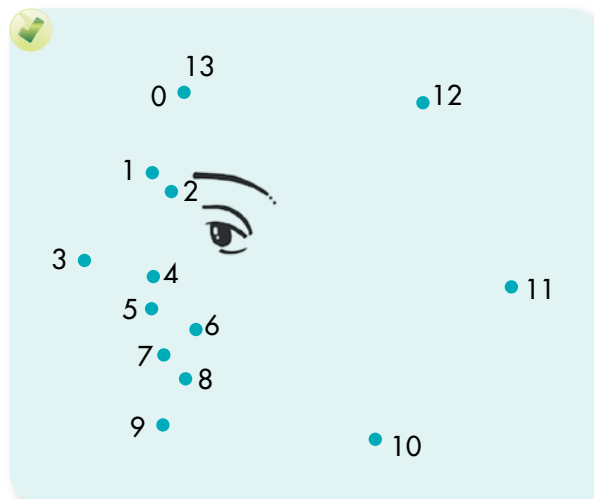
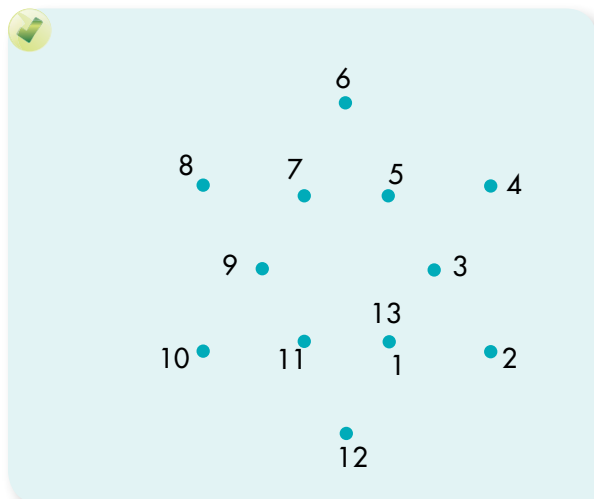
Trabaja en grupo

4. Comparen sus respuestas.



Trabaja solo

5. Une los puntos en orden y descubre el dibujo.



Muestra tu trabajo al profesor

Estudiamos otras escaleras



34



3 grupos de 10 y cuatro sueltos



34



Treinta y cuatro



30 y 4

Los adultos
escriben y leen
así:



Así escriben los adultos los números de 3 grupos de 10 y algo más.



3 9 **30 y 9 → 39** treinta y nueve
3 8 **30 y 8 → 38** treinta y ocho
3 7 **30 y 7 → 37** treinta y siete
3 6 **30 y 6 → 36** treinta y seis
3 5 **30 y 5 → 35** treinta y cinco
3 4 **30 y 4 → 34** treinta y cuatro
3 3 **30 y 3 → 33** treinta y tres
3 2 **30 y 2 → 32** treinta y dos
3 1 **30 y 1 → 31** treinta y uno
3 0 **30 → treinta**