

REPASO MATEMÁTICO



Nombre.....Fecha.....



Calcula el resultado de las siguientes operaciones matemáticas:

$$\begin{array}{r} 3.258 \\ + 120 \\ \hline \end{array}$$

$$\begin{array}{r} 8.124 \\ + 1.120 \\ \hline \end{array}$$

$$\begin{array}{r} 6.153 \\ + 1.736 \\ \hline \end{array}$$

$$\begin{array}{r} 3.222 \\ + 6.757 \\ \hline \end{array}$$

$$\begin{array}{r} 6.973 \\ + 120 \\ \hline \end{array}$$

$$\begin{array}{r} 5.524 \\ + 1.160 \\ \hline \end{array}$$

$$\begin{array}{r} 6.133 \\ + 6.836 \\ \hline \end{array}$$

$$\begin{array}{r} 2.352 \\ + 7.246 \\ \hline \end{array}$$

$$\begin{array}{r} 3.258 \\ + 9.181 \\ \hline \end{array}$$

$$\begin{array}{r} 5.164 \\ + 1.120 \\ \hline \end{array}$$

$$\begin{array}{r} 5.193 \\ + 1.736 \\ \hline \end{array}$$

$$\begin{array}{r} 3.323 \\ + 6.737 \\ \hline \end{array}$$

$$\begin{array}{r} 3.258 \\ - 2.147 \\ \hline \end{array}$$

$$\begin{array}{r} 8.454 \\ - 1.120 \\ \hline \end{array}$$

$$\begin{array}{r} 6.859 \\ - 1.736 \\ \hline \end{array}$$

$$\begin{array}{r} 9.999 \\ - 6.757 \\ \hline \end{array}$$

$$\begin{array}{r} 3.258 \\ - 120 \\ \hline \end{array}$$




$$\begin{array}{r} 8.124 \\ - 1.120 \\ \hline \end{array}$$

$$\begin{array}{r} 6.756 \\ - 1.736 \\ \hline \end{array}$$




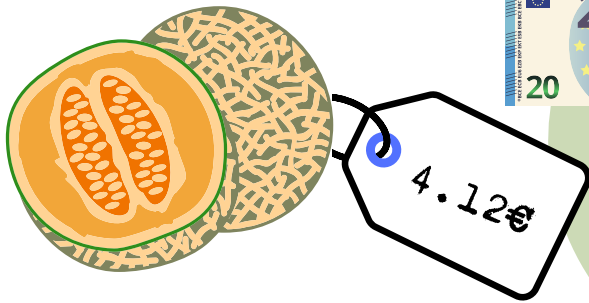
$$\begin{array}{r} 6.767 \\ - 2.357 \\ \hline \end{array}$$



Rodea las monedas que correspondan al precio de los siguientes productos.



Rodea las monedas que correspondan al precio de los siguientes productos.



¿Cuánto le falta a las siguientes cantidades para tener 5€?



4.79€

3.25€

4.99€

2.60€

3.55€

4.50€

1€



¿Cuánto le falta a las siguientes cantidades para tener 10€?



6.80€

7.15€

4.99€

2€

5.55€

3.70€

1.40€



Manuela va al mercado a comprar con 140€ y vuelve con 22.50€.
¿Cuánto se ha gastado en el mercado?




Por mi cumpleaños, invito a mis amigas a cenar y al cine. Me gasto en total 89€. Mi madre me regala 150€. ¿Cuánto me sobra?

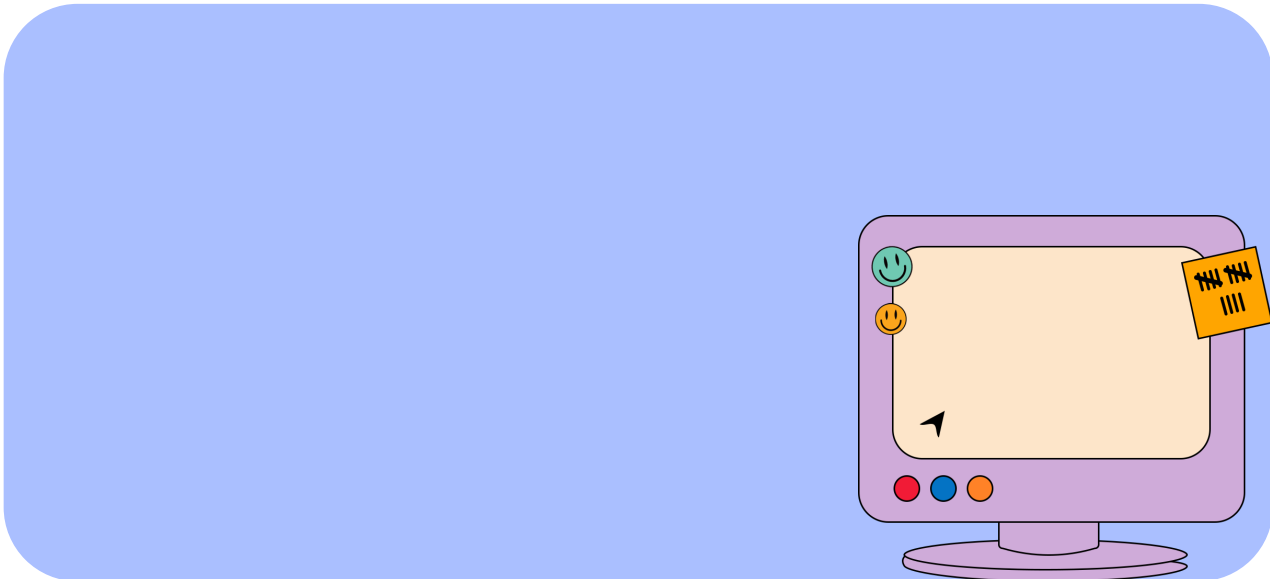


Tomé fue a cenar a un restaurante japonés con su madre, y entre los dos pidieron: un plato de sushi, una ración de gyozas y tres rollitos de primavera. Observa la carta y di cuánto pagaron en total:


PRECIOS	
Sushi.....	8€
Niguirí.....	9€
Gyozas.....	3€
Rollitos de primavera...	2€
Noodles.....	12€



Si un ordenador cuesta 650€ y necesito comprar 15 para crear una sala de informática en el colegio, ¿cuánto dinero me gastaré en total?



La panadería de mi barrio tiene muchos tipos de pan muy diferentes:



Ordena los precios de mayor a menor:

Empty rounded rectangular box for ordering prices from highest to lowest.

¿Cuál es el pan más caro? ¿Cuál es el pan más barato?

Empty rounded rectangular box for answering the questions about the most expensive and cheapest bread.

Los contenedores nuevos de reciclaje de mi ciudad cuestan:


Contenedores plástico, latas y bricks - 250€

Contenedores vidrio - 200€


Contenedores papel y cartón - 175€

Contenedor orgánico - 310€

¿Cuánto dinero se ha gastado el ayuntamiento en total?



Colorea las monedas que se ajusten a la cantidad:



Melitón ha comprado dos chaquetas:



59€




72€

¿Qué chaqueta es más barata?

¿Cuánto ha pagado por las dos chaquetas?

Perry tiene todas estas monedas y billetes en su monedero. ¿Qué puede comprar?




20€



5€



8€



8.90€



3€



25€



ESTE CUADERNO HA SIDO ELABORADO INTEGRAMENTE POR
@DIVERSIDADEIDEAS
SI TE GUSTA EL MATERIAL NO OLVIDES DAR TU APOYO A
TRAVÉS DE INSTAGRAM:

DALE A ME GUSTA A LA PUBLICACIÓN
COMPARTE EN STORIES PARA DAR MAYOR VISIBILIDAD
COMENTA ALGO POSITIVO PARA AYUDAR A LA CREADORA



¡GRACIAS!

