
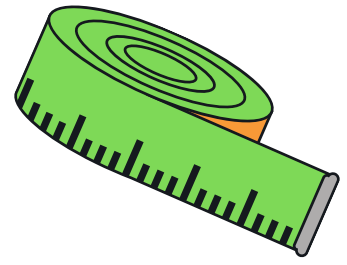



SÚPER



PACK

DE



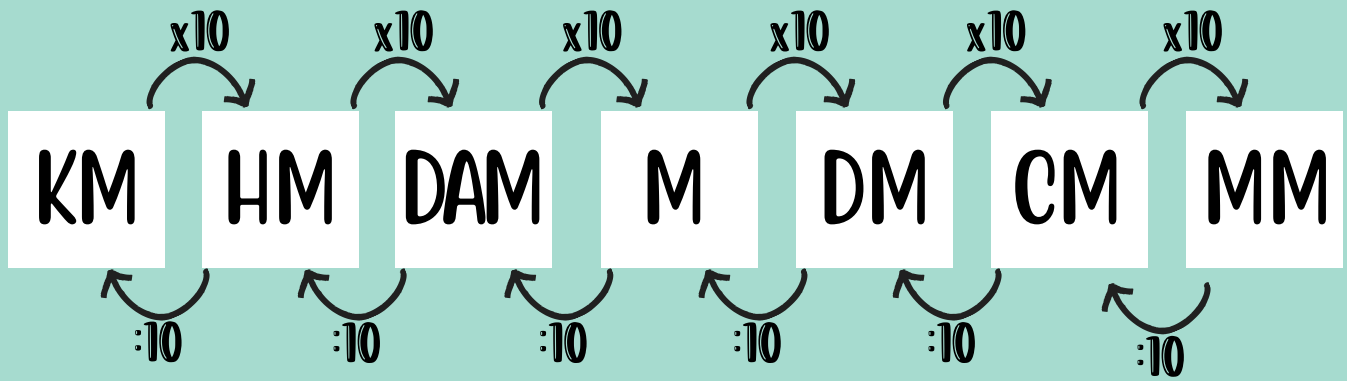
MAGNITUDES





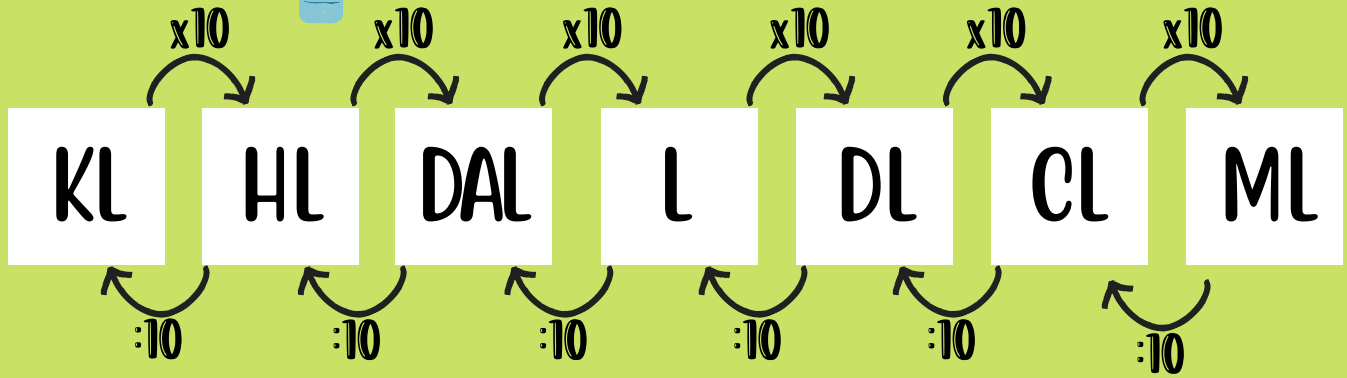
LONGITUD

@Aprenderderechupt



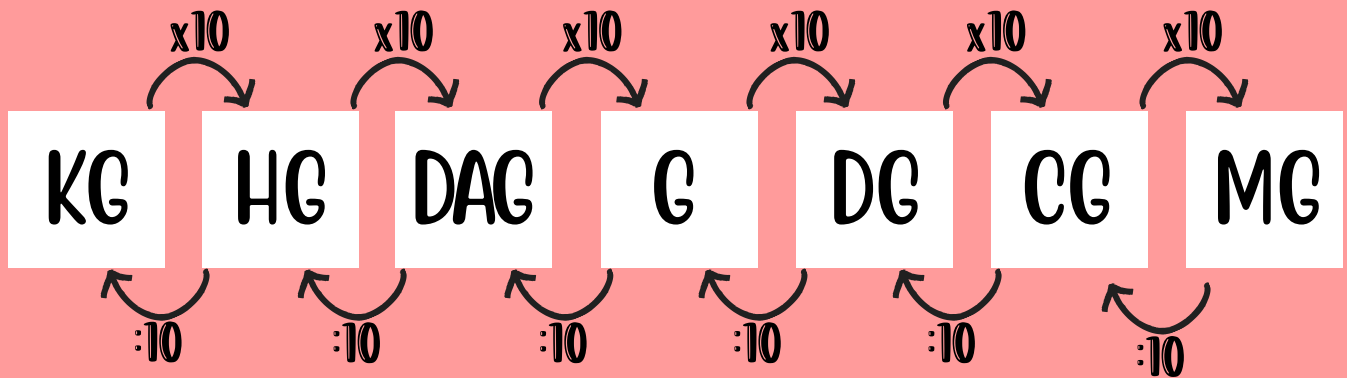
CAPACIDAD

@Aprenderderechupt



MASA

@Aprenderderechupt



Mi llavero de

MAGNITUDES

@aprenderderechupt

RESUELVE

Pedro ha ido al colegio andando. De su casa al colegio hay 54 metros.

¿Cuántos centímetros ha recorrido al llegar a su casa a las 3 de la tarde?

@aprenderderechupt

RESUELVE

María va a casa de sus abuelos una vez al día y vuelve a su casa. La distancia de su casa a casa de sus abuelos es de 18 decámetros y 45 metros. ¿Qué distancia recorre María en una semana?

@aprenderderechupt

RESUELVE

Un atleta famoso ha recorrido 75 kilómetros, 3 hectómetros y 5 decámetros.

¿Cuántos metros ha recorrido?

@aprenderderechupt

RESUELVE

Me he propuesto andar todos los días 6 kilómetros. Si ya he andando hoy 5789 metros... ¿Cuántos metros me quedan?

@aprenderderechupt

RESUELVE

Aproximadamente hay que beber 3 litros de agua al día.

Me he bebido ya 4 vasos de 50 ml cada uno. ¿Cuántos litros me faltan por beber?

@aprenderderechupt

RESUELVE

Para hacer un zumo se necesitan:

- 1 l de zumo de naranja.
- 29 cl de zumo de arándanos.
- 0,2 dal de zumo de limón.

¿Cuántos HL necesito en total?

@aprenderderechupt

RESUELVE

Ana se ha bebido 1,5 litros de agua. Su botella es de 0,3 dal. ¿Cuántos dag se ha bebido ya? ¿Cuántos litros quedan? ¿Cuántos ml se ha bebido?

@aprenderderechupt

RESUELVE

Un supermercado recibe 10 cajas con 15 bricks de leche cada una. Cada brick de leche es de 2 litros. ¿Cuántos litros hay en total? ¿Y cl?

@aprenderderechupt

RESUELVE

Para hacer una receta se necesita:

- 1kg de carne.
- 2 hg de champiñones.
- 1 dag de zanahoria
- 7 g de sal.
- ¿Cuántos gramos en total necesitamos? ¿Y kg?

@aprenderderechupt

RESUELVE

Le he comprado a mi perro una bolsa de pienso que pesa 5kg. Cada día le doy 50 g para que coma. ¿Cuántos días podré darle de comer?

@aprenderderechupt

RESUELVE

Cuando era pequeña pesaba 23 kilogramos, 34 hectogramos y 3 decagramos. Ahora peso 67,8kg. ¿Cuántos gramos he engordado por haber crecido?

@aprenderderechupt

RESUELVE

Un supermercado recibe 10 cajas con 17 quesos cada una. Cada queso pesa 147 dag. ¿Cuántos gramos hay en total? ¿Y kg?

@aprenderderechupt





¿Serás capaz de
resolver estos retos?

¡Manos a la obra!



@aprenderderechupt

CALCULADORA DE MAGNITUDES



DATOS

OPERACIONES

SOLUCIÓN



@AprenderderechupT